


Która jest najdłuższa?

Oceń długość poniższych linii i sprawdź swoje wyniki z miarami.
Musisz zapisać szacunkową długość zanim zmierzysz linię.


a. 


b. 


c. 

d. 

e. 

f. 

g. 

h. 

Linia	Długość		Linia	Długość	
	Ocena	Miara		Ocena	Miara
a.			e.		
b.			f.		
c.			g.		
d.			h.		